



PEMERINTAH KOTA DEPOK
DINAS PENDIDIKAN

ULANGAN KENAIKAN KELAS
SEKOLAH MENENGAH PERTAMA (SMP)
Tahun Pelajaran 2010/2011

LEMBAR SOAL

Mata Pelajaran : Teknologi Informasi dan Komunikasi (TIK)
Kelas : VII
Hari, Tanggal : Sabtu, 18 Juni 2011
Waktu : 90 Menit

PETUNJUK :

1. Disediakan Lembar Jawaban Komputer (LJK)
2. a. LJK dipergunakan untuk jawaban Soal Pilihan Ganda.
b. Tulislah dengan jelas : Nama Anda, Nomor Peserta Anda, Sekolah Asal, Tanggal Ulangan Kenaikan Kelas, Jam ke, Tanda tangan, dan menghitamkan bulatan kecil pada LJK sesuai dengan petunjuk.
c. Jawaban dikerjakan dengan cara menghitamkan bulatan kecil sesuai dengan jawaban yang Anda anggap benar.
d. Apabila ada jawaban yang keliru dan Anda ingin memperbaikinya, hapuslah jawaban yang keliru itu dengan menggunakan karet penghapus pensil, kemudian hitamkan bulatan kecil lain sesuai dengan jawaban yang Anda anggap benar.
e. LJK jangan sampai rusak, basah atau kotor
3. Periksa dan bacalah soal-soal sebelum Anda menjawabnya.
4. Laporkan kepada Pengawas Ulangan Kenaikan Kelas kalau terdapat tulisan yang kurang jelas, rusak atau jumlah soal kurang.
5. Jumlah soal sebanyak : Pilihan ganda 40 soal, Uraian 5 soal
6. Dahulukan menjawab soal-soal yang Anda anggap mudah
7. Mintalah kertas buram kepada pengawas Ulangan Kenaikan Kelas, bila diperlukan
8. Periksalah pekerjaan Anda sebelum Anda serahkan kepada pengawas Ulangan Kenaikan Kelas.

SELAMAT BEKERJA

I. Pilihan Ganda

1. Gambar berikut adalah salah satu perangkat,,,,,

- A. Input
B. Output
C. Storage
D. Proses




2. Perangkat untuk mentransfer gambar, tulisan atau objek lain ke komputer adalah

- A. Scanner
B. Trackball
C. Kamera
D. Touchpad

3. Perhatikan gambar berikut!
Jenis printer berikut disebut printer....

- A. Dotmatrik
B. Inkjet
C. Laser
D. Plotter



4. Data :

- | | |
|--------------|-------------|
| 1. Keyboard | 4. Speaker |
| 2. memory | 5. Mouse |
| 3. flashdisk | 6. Joystick |

Berdasarkan data tersebut yang termasuk peralatan masukan....


- A. 1, 3, 5
B. 1, 5, 6
C. 2, 4, 6
D. 2, 5, 6













5. Berikut yang termasuk perangkat keras komputer adalah....

- A. Motherboard
B. Windows
C. Ms.office
D. Coreldraw

6. Tombol pada keyboard yang berisi angka untuk operasi perhitungan terdapat pada kelompok tombol....

- A. Typewriterkey
B. Functionkey
C. Special key
D. Numerickey

7. Untuk menggerakkan kursor kita menggunakan...
- Keyboard
 - Joystick
 - Touchpad
 - Scanner
8. Menekan dan menahan tombol kiri mouse sambil menggerakkan dari posisi satu ke posisi lainnya adalah....
- Double klick
 - Klick
 - Left klick
 - Drag
9. Berikut adalah komponen utama dari CPU....
- Register dan RAM
 - ALU dan ROM
 - ALU dan CU
 - RAM dan ROM
10. Data :
- infocus
 - VGA
 - camera
 - Speaker
 - Souncard
 - Plotter
- Berdasarkan data tersebut yang termasuk output device
- 1, 2, 3
 - 1, 4, 6
 - 2, 3, 5
 - 2, 4, 6
11. Gambar berikut adalah processing device yang disebut....
- Processor
 - Memory
 - Hardisk
 - Motherboard
- 
12. Media penyimpanan yang bersifat mobile dengan kapasitas cukup besar dalam satuan Gyga adalah
- Floppy Disk
 - Flash Disk
 - Hard Disk
 - Compac Disk
13. Prinsip kerja komputer adalah....
- Input-Proses-Output
 - Input-Output-Proses
 - Output-Proses-Input
 - Proses-Output-Input
14. Komputer berasal dari kata....
- To Computer
 - Computer
 - Compute
 - To Compute
15. Perangkat tambahan yang digunakan sebagai baterai adalah....
- Stabilizer
 - UPS
 - Power Supply
 - Kompressor
16. Media penyimpanan yang berfungsi untuk membaca dan merekam data adalah....
- Optical Drive
 - Floppy Drive
 - Disk Drive
 - Hard Disk
17. Sistem operasi berbasis teks yang merupakan sistem operasi pertama microsoft adalah....
- Windows
 - DOS
 - Mac OS
 - Linux
18. Manusia yang terlibat didalam mengoperasikan serta mengatur sistem komputer disebut
- Hardware
 - Software
 - Brainware
 - Mainware
19. Data :
- | | |
|---------------|---------------|
| 1. Word | 5. Excel |
| 2. Outlook | 6. Photoshop |
| 3. Freehand | 7. Publisher |
| 4. PowerPoint | 8. Macromedia |
- Berdasarkan data tersebut, aplikasi yang merupakan bagian dari Ms. Office adalah....
- 1,4,5,7
 - 2,4,6,8
 - 3,4,5,6
 - 2,4,5,7
20. Berikut adalah perangkat lunak komputer....
- Power supply
 - Windows
 - BIOS
 - ROM
21. Windows merupakan software
- Sistem operasi
 - Pengolah kata
 - Presentasi
 - Desain grafis
22. Berikut yang termasuk software desain grafis adalah....
- Powerpoint dan Paint
 - Outlook dan Autoplay
 - Freehand dan Photoshop
 - Flash dan Publisher
23. File pada Microsoft word akan disimpan dengan ekstention....
- | | |
|---------|---------|
| A. .doc | C. .pdf |
| B. .xls | D. .ppt |
24. Untuk mengatur tampilan layar Desktop terdapat pada kotak dialog
- Display
 - System
 - Acount
 - Sound
25. Smadav merupakan Software....
- Operating System
 - Aplikasi
 - Program language
 - Utility

26. Word, Excel, dan PowerPoint dikelompokkan ke dalam....
 A. System operasi
 B. Macro media
 C. Flash player
 D. Microsoft office
27. Kegunaan dari software Microsoft Word adalah....
 A. Membuat surat lamaran
 B. Membuat laporan keuangan
 C. Membuat halaman web
 D. Membuat laporan presentasi
28. Ikon  merupakan program aplikasi
 A. Power point
 B. Word
 C. Excel
 D. Access
29. Proses awal menghidupkan komputer disebut....
 A. Booting
 B. Shutdown
 C. Turn off
 D. Restart
30. File-file yang sudah di buat di tempatkan dalam satu wadah disebut....
 A. Shortcut
 B. Folder
 C. Dekstop
 D. Explorer
31. Berikut ini adalah langkah mengaktifkan program Ms. Word adalah
 A. Start → program → Microsoft → word
 B. Start → program → startup → Ms.word
 C. Start → program, → Microsoft Office → Ms. word
 D. Start → Default Program → word
32. Komputer dalam keadaan standby atau tidak digunakan sering muncul tampilan gambar yang disebut....
 A. Control Panel
 B. Dekstop Background
 C. Start Menu
 D. Screen Saver
33. Berikut ini adalah langkah mengaktifkan program paint....
 A. Start → program → accessories → paint
 B. Start → accessories → Program → paint
 C. Start → paint → accessories → program
 D. Start → Program → paint → accessories
34. Membuka Ms. Word secara cepat dilakukan dengan
 A. Klik 2x shortcut Ms word
 B. Klik Start Program
 C. Klik Start Ms. Word
 D. Klik 1x Ms. Word
35. Ikon  berguna untuk
 A. Membuka dokumen
 B. Menyimpan dokumen
 C. Membuka dokumen baru
 D. Menutup dokumen
36. Ikon yang digunakan untuk menyimpan dokumen adalah
 A. 
 B. 
 C. 
 D. 
37. Perhatikan Ikon di bawah ini!

 1 2 3 4
 Ikon yang digunakan untuk mengetik rata tengah adalah
 A. 1
 B. 2
 C. 3
 D. 4
38. Ikon  Times New Roman (Hea ▾) berguna untuk
 A. Jenis huruf
 B. Ukuran huruf
 C. Mencetak miring
 D. Menebalkan huruf
39. Perintah untuk menutup dokumen adalah
 A. Open
 B. Close
 C. New
 D. Save
40. Ikon yang digunakan untuk membatalkan perintah atau Undo adalah
 A. 
 B. 
 C. 
 D. 

II. Uraian

41. Jelaskan pengertian dari Hardware (perangkat keras) dan Software (perangkat lunak) !
42. Jelaskan kepanjangan dari :
 a. CPU
 b. ALU
 c. RAM
 d. ROM
43. Sebutkan 4 macam sistem operasi komputer yang ada di pasaran!
44. Sebutkan (4) software aplikasi pengolah kata !
45. Jelaskan langkah-langkah mematikan komputer !