



PEMERINTAH KOTA DEPOK
DINAS PENDIDIKAN
ULANGAN KENAIKAN KELAS
SEKOLAH MENENGAH PERTAMA (SMP)
Tahun Pelajaran 2010/2011

LEMBAR SOAL

Mata Pelajaran : Ilmu Pengetahuan Sosial
Kelas : VIII
Hari, Tanggal : Sabtu, 18 Juni 2011
Waktu : 120 Menit

PETUNJUK:

1. Disediakan Lembar Jawaban Komputer (LJK)
2. a. LJK dipergunakan untuk jawaban Soal Pilihan Ganda.
b. Tulislah dengan jelas : Nama Anda, Nomor Peserta Anda, Sekolah Asal, Tanggal Ulangan Kenaikan Kelas, Jam ke, Tanda tangan, dan menghitamkan bulatan kecil pada LJK sesuai dengan petunjuk.
c. Jawaban dikerjakan dengan cara menghitamkan bulatan kecil sesuai dengan jawaban yang Anda anggap benar.
d. Apabila ada jawaban yang keliru dan Anda ingin memperbaikinya, hapuslah jawaban yang keliru itu dengan menggunakan karet penghapus pensil, kemudian hitamkan bulatan kecil lain sesuai dengan jawaban yang Anda anggap benar.
e. LJK jangan sampai rusak, basah atau kotor
3. Periksa dan bacalah soal-soal sebelum Anda menjawabnya.
4. Laporkan kepada Pengawas Ulangan Kenaikan Kelas kalau terdapat tulisan yang kurang jelas, rusak atau jumlah soal kurang.
5. Jumlah soal sebanyak : Pilihan ganda 45 soal, Uraian 5 soal
6. Dahulukan menjawab soal-soal yang Anda anggap mudah
7. Mintalah kertas buram kepada pengawas Ulangan Kenaikan Kelas, bila diperlukan
8. Periksalah pekerjaan Anda sebelum Anda serahkan kepada pengawas Ulangan Kenaikan Kelas.

SELAMAT BEKERJA

I Pilihan Ganda

1. Latar belakang pembentukan BPUPKI adalah....
A. Badan ini dikhususkan untuk membantu perang Jepang melawan Sekutu
B. Rakyat Indonesia mulai berhasil menanamkan pengaruhnya terhadap pemerintah Jepang
C. Jepang benar-benar berniat memberi hadiah kemerdekaan bagi bangsa Indonesia
D. Jepang banyak mengalami kekalahan dari Sekutu dan ingin mendapat simpati dari bangsa Indonesia
2. Sidang BPUPKI I tanggal 2 Mei- 1 Juni 1945 difokuskan pada perumusan
A. Dasar negara Indonesia
B. Sistem kenegaraan Indonesia
C. Strategi perjuangan kemerdekaan
D. Teks proklamasi kemerdekaan Indonesia
3. Perhatikan data berikut :
 1. Kebangsaan Indonesia
 2. Internasionalisme atau perikemanusiaan
 3. Mufakat dan demokrasi
 4. Kesejahteraan sosial
 5. Ketuhanan Yang Maha EsaDari data tersebut yang merupakan dasar negara Indonesia

merdeka menurut pendapat....

- A. Muh. Yamin
B. Ir. Soekarno
C. Moh Hatta
D. Prof Dr. Supomo
4. Piagam Jakarta merupakan hasil keputusan sidang khusus Panitia Sembilan dan dijadikan sebagai....
A. Penutup UUD 45
B. Pembukaan UUD 45
C. Penjelasan UUD 45
D. Batang Tubuh UUD 45
5. Situasi Internasional yang mempercepat proses kemerdekaan Indonesia adalah....
A. Dihancurkannya pangkalan militer AS
B. Lahirnya Declaration of Human Right
C. Dibomnya kota Hiroshima dan Nagasaki
D. Bersatunya Sekutu menghancurkan Jepang
6. Perhatikan tabel berikut :

I	II
Adam Malik	Ir. Soekarno
Ir. Soekarno	Drs. Moh. Hatta
Mr. AA Maramis	Rajiman Widioningrat
III	IV
H. Agus Salim	Mr. Moh. Yamin
Kahar Muzahar	Drs. Moh. Hatta
Mr. Ahmad Subarjo	Abikusno Tjokro Sujoro

21. Kontak social yang mengarah pada kerja sama disebut kontak....
 A. Positif C. Primer
 B. Negative D. Sekunder
22. Hambatan yang berhubungan dengan perbedaan rasa tau suku bangsa di sebut ...
 A. Sosiologis C. Psikologis
 B. Antropologis D. Ekologis
23. Perhatikan pernyataan berikut ini :
 1) Pedoman untuk bersikap dan bertingkah laku.
 2) Menjaga keutuhan masyarakat yang bersangkutan
 3) Pranata social memiliki tata tertib tersendiri
 4) Memberikan pegangan terhadap masyarakat untuk mengadakan pengamatan dan pengendalian social
 5) Memiliki perlengkapan tersendiri untuk ,masyarakat
 Dari pernyataan tersebut yang merupakan fungsi pranata social di tunjukkan pada nomor
 A. 1,2 dan 3 C. 2,3 dan 4
 B. 1,2 dan 4 D. 2,4 dan 5

24. Fungsi dari pranata agama adalah ...
 A. Reproduksi, proteksi, control,afeksi
 B. Tenaga kerja,barter, pengupahan,harga
 C. Pendidikan, penyelamatan,pengawasan social, transformatif
 D. Persiapan, peranan, riset ilmiah,penyesuaian diri.

25. Perhatikan table berikut ini :

I	II
Polisi Guru Kepala desa	Lurah Pengadilan Hansip
III	IV
Masyarakat Wali kota Adat istiadat	Kepolisian Pengadilan Kependidikan

Dari tabel tersebut yang termasuk lembaga pengendalian social , ditunjukkan pada table ...

- A. I C. III
 B. II D. IV
26. Kelompok yang termasuk bukan angkatan kerja adalah...
 A. Bekerja , pengangguran, anak sekolah
 B. Tenaga kerja,pengangguran,pengurus rumah tangga
 C. Pengurus rumah tangga, sedang sekolah,penerima pedapatan.
 D. Penerima pensiun, pekerja social,pemberi kredit
27. Pengangguran yang disebabkan oleh penggantian tenaga manusia menjadi tenaga mesin adalah pengangguran....
 A. Deflasi C. Struktural
 B. Friksional D. Teknologi
28. Salah satu upaya pemerintah untuk meningkatkan mutu tenaga kerja adalah ...
 A. Membuka lapangan kerja seluas-luasnya.
 B. Memberikan gaji yang sebanyak-banyaknya supaya menjadi tenaga trampil
 C. Mengadakan program magang kepada tenaga kerja yang belum bekerja
 D. Mengadakan pemerataan kerja di segala bidang.
29. Peran pemerintah dalam upaya memperluas kesempatan kerja melakukan kegiatan ...
 A. Menambah kursus-kursus
 B. Menambah jumlah sekolah

- C. Mengembangkan industry padat karya
 D. Mengembangkan industry padat modal

30. Sistem perekonomian yang dianut di Indonesia adalah sistem....
 A. Liberal C. Campuran
 B. Sosialis D. Demokrasi ekonomi

31. Perhatikan tabel berikut :

I	II
Fa CV PT	BUMN BUMS Koperasi
III	IV
BUMS BUMA BUMN	Koperasi Perseroan Persekutuan

Dari data tersebut yang merupakan pelaku utaman dalam pereknomian Indonesia ditunjukkan pada tabel ...

- A. I C. III
 B. II D. IV
32. Perhatikan ciri-ciri sistem perekonomian berikut :
 1) Perekonomian disusun sebagai usaha bersama yang didasarkan atas asas kekeluargaan.
 2) Adanya kebebasan bagi rakyat untuk memilih identitas pekerjaan yang dikehendaki demi kelayakkan hidupnya
 3) Pemusatan kekuatan ekonomi pada suatu kelompok dalam bentuk monopoli
 4) Potensi,inisiatif, dan daya kreasi setiap warga negara dikembangkan sepenuhnya
 5) Kebebsan yang dapat menimbulkan eksploitasi terhadap manusia dan bangsa lain
 Dari pernyataan tersebut yang merupakan ciri positif dari demokrasi ekonomi Pancasila ditunjukkan pada nomor ...
 A. 1,2,dan 3 C. 2,3 dan 4
 B. 1,2,dan 4 D. 2,4 dan 5

33. Ciri yang yang harus dihindari dalam perekonomian di Indonsia adalah ...
 A. Demokrasi, sosial, sentralis
 B. Sentralis, inisiatif,daya kreasi
 C. Liberalism,etatisme,monopoli
 D. Potensi,daya kreasi, inisiatif

34. Pajak dipakai sebagai alat untuk mengatur kegiatan ekonomi, fungsi pajak sebagai....
 A. Budgeter C. Distribusi
 B. Alokasi D. Regulasi
35. Contoh dari pajak tak langsung adalah ...
 A. PPN, PPnBM, cukai
 B. PPh, PBB, PKB
 C. Bea materai, PBB, retribusi
 D. PPn, PBB, PPN

36. PBB, PPh, dan PPN di tinjau dari pemungutannya termasuk pajak....
 A. Subyektif C. Negara
 B. Obyektif D. Daerah
37. Pemungutan pajak oleh Negara sangat berpengaruh terhadap perekonomian nasional, diantaranya...
 A. Menentukan kegiatan produksi
 B. Menjadi sumber pendapatan Negara
 C. Mengakibatkan kesenjangan sosial
 D. Mempengaruhi pendapatan Negara

38. Tn Hengki mempunyai rumah seluas 160 m², luas bangunan 100 m². NJOP tanah Rp 500.000,00 per m². harga bangunan Rp 1.000.000,00 per m², maka Tn Hengki harus membayar PBB sebesar ...

- A. Rp 150.000,00 C. Rp 154.000,00
 B. Rp 152.000,00 D. Rp 156.000,00

39. Pengertian permintaan adalah ...

- A. Jumlah barang yang akan dijual pada tingkat harga dan waktu tertentu.
 B. Garis yang menunjukkan hubungan antara harga dengan jumlah barang yang ditawarkan
 C. Garis yang menunjukkan hubungan antara harga suatu barang dengan jumlah barang yang diminta.
 D. Jumlah barang dan jasa yang akan dibeli pada tingkat harga dan waktu tertentu.

40. Permintaan terhadap barang atau jasa yang dilakukan sesuai dengan daya beli yang dimiliki, disebut permintaan ...

- A. Absolute C. Efektif
 B. Potensial D. Subyektif

41. Berdasarkan hukum permintaan antara harga dan jumlah barang yang diminta memiliki hubungan...

- A. Positif C. Seimbang
 B. Negative D. setara

42. Harga kesepakatan antara penjual dan pembeli di sebut harga...

- A. penawaran C. penjualan
 B. Permintaan D. keseimbangan

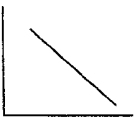

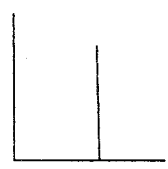

43. Perhatikan pernyataan berikut

- 1) Biaya produksi
- 2) Selera masyarakat
- 3) Tingkat teknologi
- 4) Harga barang lain
- 5) Pendapatan masyarakat

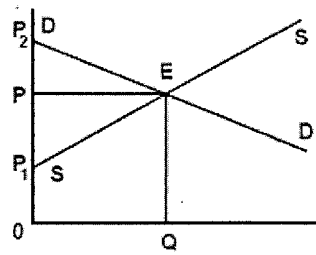
Dari pernyataan tersebut yang termasuk factor-faktor yang mempengaruhi penawaran adalah nomor ...

- A. 1,2 dan 3 C. 2,3 dan 4
 B. 1,3 dan 4 D. 2,4 dan 5

44. Kurva berikut ini yang menunjukkan kurva penawaran secara umum adalah ...

- A. 
- B. 
- C. 
- D. 

45. Perhatikan kurva berikut :



Dari kurva tersebut yang menunjukkan harga keseimbangan pada huruf...

- A. D
 B. S
 C. E
 D. Q

II. Uraian

46. Bagaimana sistematika UUD 1945 yang berhasil dirampungkan dan disahkan oleh PPKI?

47. Apa peran dr Karyadi dalam pertempuran 5 hari di Semarang?

48. Jelaskan 2 cara dalam upaya pengendalian social.

49. Sebutkan 3 peranan BUMN dalam perekonomian Indonesia.

50. Tn Felix sudah menikah dan memiliki 2 orang anak, beliau seorang manajer di suatu perusahaan swasta, setiap bulannya mendapat gaji sebesar Rp 8.000.000,00. Berapa PPh yang harus dibayar Tn Felix setiap tahunnya?, menurut UU No. 17 tahun 2000.