



**PEMERINTAH KOTA DEPOK
DINAS PENDIDIKAN**

**ULANGAN KENAIKAN KELAS
SEKOLAH MENENGAH PERTAMA (SMP)
Tahun Pelajaran 2010/2011**

LEMBAR SOAL




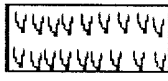
Mata Pelajaran : Ilmu Pengetahuan Sosial
Kelas : VII
Hari, Tanggal : Sabtu, 18 Juni 2011
Waktu : 120 Menit

PETUNJUK :

1. Disediakan Lembar Jawaban Komputer (LJK)
2. a. LJK dipergunakan untuk jawaban Soal Pilihan Ganda.
b. Tulislah dengan jelas : Nama Anda, Nomor Peserta Anda, Sekolah Asal, Tanggal Ulangan Kenaikan Kelas, Jam ke, Tanda tangan, dan menghitamkan bulatan kecil pada LJK sesuai dengan petunjuk.
c. Jawaban dikerjakan dengan cara menghitamkan bulatan kecil sesuai dengan jawaban yang Anda anggap benar.
d. Apabila ada jawaban yang keliru dan Anda ingin memperbaikinya, hapuslah jawaban yang keliru itu dengan menggunakan karet penghapus pensil, kemudian hitamkan bulatan kecil lain sesuai dengan jawaban yang Anda anggap benar.
e. LJK jangan sampai rusak, basah atau kotor
3. Periksa dan bacalah soal-soal sebelum Anda menjawabnya.
4. Laporkan kepada Pengawas Ulangan Kenaikan Kelas kalau terdapat tulisan yang kurang jelas, rusak atau jumlah soal kurang.
5. Jumlah soal sebanyak : Pilihan ganda 45 soal, Uraian 5 soal
6. Dahulukan menjawab soal-soal yang Anda anggap mudah
7. Mintalah kertas buram kepada pengawas Ulangan Kenaikan Kelas, bila diperlukan
8. Periksalah pekerjaan Anda sebelum Anda serahkan kepada pengawas Ulangan Kenaikan Kelas.

SELAMAT BEKERJA

I Pilihan Ganda

1. Yang termasuk peta tematik adalah.....
 - a. peta dunia
 - b. peta korografi
 - c. peta topografi
 - d. peta persebaran barang tambang
2. Gambar simbol peta yang terdapat di bawah ini yang tergolong simbol piktoral adalah.....
 - a. 
 - b. 
 - c. 
 - d. 
3. Pada suatu peta tercantum skala 1:750.000, pada peta itu jarak kota Mekar Sari dan Pasenggrahan adalah 1 cm, jarak sesungguhnya kedua kota tersebut adalah....
 - a. 7,5 km
 - b. 75 km
 - c. 15 km
 - d. 750 km
4. Pada suatu indeks ditemukan : Depok 62 D 24, artinya.....
 - a. Kota Depok terletak pada halaman 24, kolom D, dan baris 62

- b. Kota Depok terletak pada halaman 24 kolom 62 dan baris D
 - c. Kota Depok terletak pada halaman 62, kolom D dan baris 24
 - d. Kota Depok terletak pada halaman 62, kolom 24 dan baris D
5. Globe dapat berputar pada posisinya seperti bumi dan miring terhadap bidang ekliptika, kemiringannya sebesar.....
 - a. 6°
 - b. $23 \frac{1}{2}^{\circ}$
 - c. $66 \frac{1}{2}^{\circ}$
 - d. 90°
 6. Perhatikan tabel berikut ini

I	II
Judul	Judul
Indeks	Skala
inset	legenda

III	IV
Judul	Judul
Daftar isi	Indeks
indeks	Garis tepi

Dari tabel tersebut yang merupakan komponen – komponen peta di tunjukan pada tabel.....

- I
 - II
 - III
 - IV
7. Bagian permukaan bumi yang terletak lebih rendah dari daerah sekitarnya yang diapit oleh pegunungan disebut.....
- Plato
 - Lembah
 - Tanjung
 - Jurang
8. Perhatikan pernyataan berikut;
- Memiliki 3 pembagian wilayah waktu
 - Iklim di indonesia di pengaruhi oleh angin muson
 - Memiliki banyak gunung berapi
 - Letaknya strategis
 - Banyak mendapat pengaruh budaya asing
 - Beriklim tropis
- Dari pernyataan diatas yang termasuk pengaruh letak geografis wilayah Indonesia di tunjukan pada nomor.....
- 2,4 dan 5
 - 1,3 dan 6
 - 2,3 dan 4
 - 4,5 dan 6
9. Indonesia berada diantara dua jalur pegunungan lipatan muda, yaitu.....
- Pegunungan lipatan muda sirkum sahur dan sirkum sunda
 - Pegunungan lipatan muda sirkum atlantik dan pasifik
 - Pegunungan lipatan muda sirkum asia dan pasifik
 - Pegunungan lipatan muda sirkum pasifik dan sirkum mediterania
10. Pola pemukiman penduduk yang cenderung mendekati jalan, menunjukan pola.....
- Linear
 - Memusat
 - terpencar
 - Bergerombol
11. Ozon pada lapisan stratosfer berfungsi untuk.....
- Menghancurkan ultra violet
 - Meneruskan radiasi ultra violet
 - Menentukan radiasi ultra violet
 - Menyerap radiasi ultra violet
12. Angin yang berhembus terus menerus dari daerah maksimal subtropika selatan dan utara menuju kearah khatulistiwa disebut....
- Angin barat
 - Angin timur
 - Angin pasat
 - Angin anti pasat
13. Air sumur yang berada di rumah-rumah penduduk merupakan jenis air tanah.....
- Artesis
 - Preatis
 - Agnifer
 - Agnifer tertekan
14. Bagian sungai yang menunjukan adanya kekuatan arus aliran yang lemah dengan arah erosi yang bersifat Horizontal adalah.....

- Bagian hilir
- Bagian hulu
- Bagian tengah
- Bagian hulu dan tengah

15. Laut dengan kedalaman 200 m – 2000 m, sinar matahari tidak mencapai dasar laut, jenis tumbuhan dan hewan terbatas, termasuk jenis laut.....
- Bathyal
 - Neritik
 - Litoral
 - Abisal
16. Penggolongan masyarakat berdasarkan tingkat atau derajat orang yang bersangkutan dalam agama Hindu disebut....
- Kasta
 - Moksa
 - Nirwana
 - Reinkarnasi
17. Kerajaan Sriwijaya tumbuh sebagai Negara maritim yang besar di Asia Tenggara karena letaknya yang strategis yaitu berada di....
- Jalur perdagangan nasional
 - Antara Benua Australia dan Asia
 - Jalur perdagangan India dan Cina
 - Jalur perdagangan Melayu dan Cina

18. Tabel nama – nama raja di Jawa sekitar tahun 1222 – 1389

No	I	II	III	IV
1.	Kertaja ya	Rangga wuni	Ken Arok	Raden Wijaya
2.	Ken Arok	Mahisa Cempak a	Jaya Katwa ng	Jayanega ra
3.	Anusa pati	Kertane gara	Tohja ya	Tribuana Tungga dewi
4.	Tohjaya	Jayaka tuang	Mahi sa Cem pa ka	Hayam Wuruk

Berdasarkan tabel diatas ,yang termasuk nama- nama raja dari kerajaan Majapahit tercantum pada kolom

- I
 - II
 - III
 - IV
19. Bukti yang menunjukan toleransi antar umat beragama di kerajaan Mataram Kuno ,yaitu....
- Samaratungga membangun Borobudur
 - Pembangunan candi Hindu – Budha secara gotong royong
 - Hubungan baik pejabat keagamaan Mataram dengan kerajaan lain
 - Pernikahan Rakai Pikatan dengan Pramodhawardani
20. Rute perjalanan para penyebar agama dan budaya Hindu-Budha ke nusantara melalui jalur laut adalah....
- India - Cina – Vietnam – Kamboja – Nusantara
 - India – Kamboja – Vietnam – Cina – Nusantara
 - India - Malaya – Thailand – Myanmar – Nusantara
 - India – Myanmar – Thailand – Malaya - Nusantara

21. Penyebaran agama Islam di Indonesia di dorong oleh di gunakanya jalur per Jagangan antara Cina dengan India yang melewati wilayah.....
- Tibet
 - Asia Tengah
 - Selat Malaka
 - Madagaskar
22. Peranan kerajaan Samudera Pasai pada ke 12 adalah....
- Pusat pelayaran terbesar di Indonesia
 - Pusat perdagangan utama di Indonesia
 - Benteng pertahanan untuk melawan Portugis
 - Pusat penyebaran agama Islam pertama di Indonesia
23. Jatuhnya malaka ke tangan portugis ikut mendorong kemajuan kesultanaan Banten karena...
- kesultanaan banten mendapat dukungan dari kesultanaan demak
 - banyak pedagang Eropa yang membeli rempah-rempah di banten
 - kesultanaan Banten bekerjasama dengan Portugis dalam bidang pertahanan
 - para pedagang islam mengalihkan jalur perdagangan melalui selat sunda.
24. Tokoh penyebaran agama Islam di Kutai –(Kalimantan Timur) ialah....
- Raden rachmad
 - Nuruddin Ar Raniri
 - Tua Tanggung Perang
 - Maulana Malik Ibrahim
25. Batu nisan yang ditemukan di Leran Gresik, pada tahun 1082 merupakan bagian dari makam....
- Sultan Agung
 - Malik Al Saleh
 - Fatimah Binti maimun
 - Maulana Malik Ibrahim
26. Pada tanggal 31 Desember 1799 VOC dibubarkan karena berbagai sebab diantaranya....
- Pegawai VOC bekerja tidak dengan maksimal
 - Pemerintah VOC bekerja sama dengan EIC
 - Korupsi di antara para pegawai VOC yang merajarela
 - Adanya kerjasama dengan kongsi dagang Negara lain
27. Perjanjian Thordessilas yang diadakan antara bangsa Portugis dengan Spanyol tahun 1494 adalah bertujua....
- Kesepakatan untuk menguasai negara – negara di Asia
 - Kesepakatan untuk mengadakan penjelajahan Samudra
 - Kesepakatan Portugis dan Spanyol bersama-sama mengempur Islam
 - Untuk menghindari bentrok senjata dan penetapan batas wilayah kekuasaan Portugis dan Spanyol
28. Pada masa pemerintahan Inggris , pelaksanaan pembayaran pajak tanah oleh petani dan penghapusan penyerahan wajib mengalami kegagalan, karena....
- Belum adanya undang –undang Agraria
 - Petani tidak memiliki perlindungan hukum
 - Pungutan pajak sangat memberatkan petani
 - Belum adanya kantor pencatatan tanah dan system ekonomi uang belum berkembang
29. Politik Pintu Terbuka yang mulai berlaku sejak abad ke 19 dimaksudkan untuk....
- meningkatkan tanaman produksi di Indonesia
 - memberi peluang bagi penguasa swasta menanamkan modalnya di Indonesia
 - mencari keuntungan sebanyak mungkin untuk mengisi kas negeri Belanda yang kosong
 - memberi peluang bagi golongan liberal untuk memperoleh keuntungan di Indonesia
30. Suatu pemberontakan rakyat Maluku terhadap VOC yang terjadi pada 1635 di pimpin oleh
- Kakiali
 - Pattimura
 - Sultan Hairun
 - Sultan Baabullah
31. Sumber daya ekonomi digunakan untuk melaksanakan kegiatan produksi yang termasuk faktor produksi asli adalah....
- Modal dan tenaga kerja
 - Modal dan kewirausahaan
 - Alam dan tenaga kerja
 - Alam dan modal
32. Perhatikan pernyataan dibawah ini :
- | No | Uraian |
|----|--|
| 1 | Menghasilkan barang dan jasa |
| 2 | Menyalurkan barang dan jasa |
| 3 | Menggunakan barang dan jasa |
| 4 | Menciptakan kegunaan barang dan jasa |
| 5 | Membantu mendekatkan produsen dan konsumen |
| 6 | Menghabiskan barang dan jasa |
| 7 | Menambah nilai guna barang dan jasa |
- Dari pernyataan diatas yang termasuk kegiatan produksi nampak pada nomor ...
- 1, 3, 4
 - 1, 4, 7
 - 1, 5, 6
 - 2, 4, 7
33. Kegiatan konsumsi yang dilakukan oleh rumah tangga negara adalah ...
- Subsidi BBM
 - Belanja pegawai negeri
 - Membangun jalan tol
 - Menyalurkan listrik
34. Perhatikan data berikut :
- | No | Uraian |
|----|----------------|
| 1 | Modal tetap |
| 2 | Modal individu |
| 3 | Modal abstrak |
| 4 | Modal sosial |
| 5 | Modal lancar |
| 6 | Modal riil |

Berdasarkan data tersebut, yang merupakan pembagian modal berdasarkan sifatnya ditunjukkan nomor ...

- a. 1 dan 4 c. 3 dan 5
b. 2 dan 6 d. 1 dan 5

35. Tenaga kerja yang mampu dan cakap dalam memimpin organisasi dalam perusahaan yang besar disebut ...

- a. Labaur skilled c. Organizational skill
b. Managerial skill d. Labaur unskilled

36. Perhatikan data berikut ini :

No	Uraian
1	Pengeboran minyak
2	Perikanan darat
3	Penangkapan ikan di laut
4	Perkebunan kopi
5	Usaha pertanian
6	Perusahaan jasa

Dari data tersebut yang merupakan usaha dalam bidang Agraris adalah ...

- a. 1,2,3 c. 2,4,6
b. 1,3,5 d. 2,4,5

37. Pemupukan tanah, pengairan dan penggunaan bahan baku yang lebih bermutu merupakan contoh peningkatan hasil produksi secara ...

- a. Ekstensifikasi c. Difersifikasi
b. Intensifikasi d. Spesialisasi

38. Perusahaan yang sahamnya dapat dijual kepada masyarakat umum adalah ...

- a. Persekutuan komanditer
b. Firma
c. PT. Kosong
d. PT. Terbuka

39. Badan usaha yang menjadi pilar utama perekonomian Indonesia terdiri dari ...

- a. BUMN, BUMS, dan Koperasi
b. BUMN, Koperasi, dan BUMD
c. BUMN, Swasta, dan Yayasan
d. Usaha Formal, Usaha Informal, dan Pemerintah

40. Landasan idiil koperasi Indonesia adalah ...

- a. UUD 1945 c. Setia kawan
b. Pancasila d. Kekeluargaan

41. Perhatikan beberapa badan usaha dibawah ini :

No	Uraian
1	Perjan Perhutani
2	Perum Damri
3	PT Unilever
4	Bank BCA

Dari kelima badan usaha diatas, yang merupakan milik BUMN adalah ...

- a. 1 dan 2 c. 3 dan 4
b. 2 dan 3 d. 4 dan

42. Perhatikan pernyataan berikut :

No	Uraian
1	Tanamkan kejujuran dalam kehidupan sehari hari
2	Lakukan latihan keterampilan
3	Biasakan mengikuti mode terbaru dalam konsumsi
4	Pantang menyerah dalam menghadapi masalah

Pernyataan tersebut yang dapat menumbuhkan kemandirian adalah ...

- a. 1, 2 dan 3 c. 1, 2 dan 4
b. 1,3 dan 4 d. 2, 3 dan 4

43. Perhatikan pernyataan berikut ini :

No	Uraian
1	Bencana banjir, gunung meletus, dan tanah longsor
2	Banyak terjadinya aksi unjuk rasa dan demo yang anarkis
3	Naiknya ongkos angkutan barang
4	Terjadinya perang sehingga keadaan tidak aman

Berdasarkan daftar diatas, faktor non ekonomi yang mempengaruhi kegiatan bisnis adalah ...

- a. 1, 2 dan 3 c. 1, 3 dan 4
b. 1, 2 dan 4 d. 2, 3 dan

44. Pengertian kreativitas adalah ...

- a. Kemampuan berimajinasi
b. Kemampuan merencanakan kegiatan dari suatu perusahaan
c. kemampuan berpikir menciptakan hal yang baru
d. kegiatan menciptakan barang barang yang baru

45. Faktor yang menghambat kreativitas antara lain ...

- a. Perubahan sikap
b. Berani mengambil resiko
c. Takut gagal
d. Melanggar aturan

II. Uraian

46. Sebutkan 4 macam peta berdasarkan skalanya?

47. Sebutkan 5 unsur-unsur cuaca dan iklim?

48. Sebutkan 4 peninggalan bangunan yang bercorak Islam di Indonesia ?

49. Jelaskan proses masuk dan berkembangnya agama Islam di Indonesia?

50. Jelaskan perbedaan perusahaan dengan badan usaha?